

कुल गुण 200

617

COMMERCE
(Hindi Medium)

कैटेगरी

A

617-COMMERCE

A61700411

SEAL SEAL SEAL SEAL SEAL SEAL

परीक्षार्थी का
बैठक क्रमांक

--	--	--	--	--	--	--	--	--	--

परीक्षार्थी का ब्लॉक नं.

--

परीक्षार्थी के हस्ताक्षर

--

ब्लॉक सुपरवाइजर के हस्ताक्षर

--

परीक्षार्थियों के लिए महत्वपूर्ण सूचनाएँ

- (1) आपको जब तक कहा न जाए तब तक प्रश्न पुस्तिका नहीं खोलनी है।
- (2) परीक्षा के दौरान परीक्षार्थी के पास कोई भी साहित्य गाईड, मार्गदर्शिका, कागज का टुकड़ा, अन्य हस्तलिखित या प्रिन्टेड साहित्य, मोबाइल फोन, केल्व्युलेटर, स्पाई कैमरा, हेडफोन या अन्य दूसरे उपकरण प्राप्त होंगे तो परीक्षार्थी अयोग्य माने जाएँगे।
- (3) परीक्षा के दौरान आपस में बात करना, आवाज करना या सुपरवाइजर के निर्देशों का उल्लंघन करना, इससे वे अयोग्य माने जाएँगे।
- (4) प्रश्नपत्र मिलने पर तुरंत उत्तरपत्र (OMR SHEET) में नियत (स्थान) जगह पर अपना बैठक नंबर स्वच्छ अक्षर में लिखिए।
- (5) उत्तरपत्र (OMR SHEET) में निश्चित जगह के अलावा दूसरी जगह बैठक नंबर नहीं लिखना है तथा अपनी पहचान नाम सहित अन्य कोई भी निशान लगाने की कड़ी मनाही है। इसके अलावा कोई भी निशान या पहचान प्राप्त होने पर उन्हें संपूर्ण रूप से अयोग्य माना जाएगा।
- (6) उत्तरपत्र (OMR SHEET) के प्रमाण पत्र में परीक्षार्थी तथा सुपरवाइजर दोनों के हस्ताक्षर अनिवार्य हैं। दोनों के हस्ताक्षर के बिना उत्तरपत्र (OMR SHEET) का मूल्यांकन नहीं होगा। अतः उम्मीदवार को सुपरवाइजर के हस्ताक्षर लेना अनिवार्य है।
- (7) परीक्षार्थी नीला/काला बॉल पेन उपयोग कर सकते हैं। अन्य रंगों के पेन या पेन्सिल तथा व्हाइटनर का उपयोग नहीं कर सकते हैं।
- (8) प्रश्नपत्र में दिए गए विकल्पों में किसी भी प्रकार के निशान नहीं लगाना है।
- (9) इस प्रश्नपत्र में कुल - 200 प्रश्न हैं। प्रत्येक प्रश्न का उत्तर A, B, C और D में से कोई एक है। सभी प्रश्नों के लिए चार विकल्प दिए गए हैं। सभी प्रश्नों के उत्तर देना अनिवार्य है।
उदाहरण : गुजरात की राजधानी क्या है?
(A) अहमदाबाद (B) गाँधीनगर (C) वडनगर (D) पाटण
यहाँ उत्तर (B) गाँधीनगर सही हो तो, OMR SHEET में विकल्प (B) के गोले को पेन से गाढ़ा (Encode) करना होगा।
Ⓐ ● Ⓒ Ⓓ
- (10) प्रत्येक सही जवाब का 1 (एक) अंक दिया जाएगा। प्रत्येक गलत उत्तर के लिए 0.25 गुण घटाए जाएँगे (नेगेटिव 0.25) यदि उम्मीदवार किसी प्रश्न का उत्तर नहीं देना चाहता तो उन्हें विकल्प E पसंद करना होगा। विकल्प E के लिए नेगेटिव गुण नहीं रहेंगे।
- (11) कांट-छांट किए गए उत्तर तथा एक से ज्यादा विकल्प में दिए उत्तर तथा ब्लैड, रबर या व्हाइटनर का उपयोग कर बदले हुए उत्तर के लिए 0.25 नेगेटिव अंक दिए जाएँगे।
- (12) परीक्षा पूर्ण होने के पश्चात् उत्तरपत्र (OMR SHEET) ब्लॉक सुपरवाइजर को देने के बाद ही कक्षा (CLASS ROOM) से निकलना है। ऐसा नहीं करने पर उम्मीदवार परीक्षा के लिए अयोग्य माने जाएँगे।
- (13) इस परीक्षा का निर्धारित समय 180 मिनट है।
- (14) सर्वाधिक उपयुक्त विकल्प को उत्तर माना जाएगा।

- (1) यूनेस्को ने कितनी भारतीय भाषाओं को लुप्तप्राय घोषित किया है ?
- (A) 195 (B) 196
(C) 180 (D) 197
- (2) प्राचीन भारत के ज्ञान और आधुनिक भारत के योगदान के बारे में बताने के लिए NEP-2020 में कौन-सा विषय तैयार किया गया है ?
- (A) ज्ञानी भारत (B) भारत का ज्ञान
(C) आधुनिक भारत (D) प्राचीन भारत
- (3) PARAKH शब्द का पूरा नाम क्या है ?
- (A) Private Assessment Report and Analysis of Knowledge for Holistic Development
(B) Performance Assessment, Review and Analysis of Knowledge for Holistic Development
(C) Performance Assistant, Review and Analysis of Knowledge for Holistic Development
(D) Personal Assistant, Review and Analysis of Knowledge for Holistic Development
- (4) DNA पर अनुसंधान कार्य करने वाले भारतीय मूल के वैज्ञानिक कौन थे ?
- (A) राधाकृष्णन (B) अमृत्य सेन
(C) हरगोविंद खुराना (D) ए. पी. जे. अब्दुल कलाम
- (5) पंचायती राज का त्रिस्तरीय ढाँचा किस समिति ने दिया था ?
- (A) मेट्काफ समिति (B) ब्रिटिश समिति
(C) सेवक समिति (D) बलवंत राय मेहता समिति
- (6) कॉमनवेल्थ गेम्स को पहले किस नाम से जाना जाता था ?
- (A) यूरोपियन गेम्स (B) यूरो-एशियन गेम्स
(C) कॉमन गेम्स (D) ब्रिटिश एम्परर गेम्स
- (7) CAG की नियुक्ति करने की सत्ता किसके पास है ?
- (A) प्रधानमंत्री (B) राष्ट्रपति
(C) उपराष्ट्रपति (D) मुख्यमंत्री

- (8) सिकंदर और पोरस का युद्ध कौन-सी नदी के किनारे हुआ था ?
- (A) चिनाब (B) रावी
(C) सतलज (D) झेलम
- (9) भारतीय इतिहास के कार्यकाल में ईसवी में किसका समावेश होता है ?
- (A) चंद्रगुप्त मौर्य का राज्यकाल (B) सम्राट अशोक का राज्यकाल
(C) खिलजीवंश और तुगलक वंश (D) विक्रम संवत् की शुरूआत
- (10) महाराष्ट्र का कौन-सा नृत्य प्रसिद्ध है ?
- (A) घूमर (B) कालबेलिया
(C) कप्पीघोडी (D) लावणी
- (11) माइकल फेरार्ड ने कौन-सी खोज की थी ?
- (A) पेनेसिलिन नामक (B) आवर्त कोष्टक
(C) कीमती धातु रेडियम (D) गति ऊर्जा का विद्युत ऊर्जा में रूपांतर
- (12) मनुभाई पंचोली 'दर्शक' की कौन-सी कृति है ?
- (A) उपायन (B) सोक्रेटीस
(C) अनुनय (D) हयाती
- (13) अनुप कुमार किस खेल के प्रसिद्ध खिलाड़ी है ?
- (A) खो-खो (B) कबड्डी
(C) क्रिकेट (D) फुटबॉल
- (14) स्वामी विवेकानंद ने कौन-सा सूचन राष्ट्रवाद के लिए दिया ?
- (A) राष्ट्र का गौरव (B) लोक जागृति और गरीबों का उद्धार
(C) सर्वग्राही दृष्टि (D) संस्कृति का गौरव
- (15) इनमें से कौन-सा संसाधन नवीनीकरणीय (Renewable) नहीं है ?
- (A) जंगल (B) पवन
(C) कुदरती वायु (D) सौर प्रकाश

- (16) डॉ. बी. आर. आंबेडकर ने किसे भारतीय संविधान की आत्मा का दर्जा दिया था ?
- (A) समानता का अधिकार (B) संस्कृति और शिक्षा का अधिकार
(C) शोषण के विरुद्ध का अधिकार (D) संवैधानिक उपचारों का अधिकार
- (17) गुजरात में पंचायती राज संस्थाएँ कब से अस्तित्व में हैं ?
- (A) 1 मई 1960 (B) 20 अप्रैल 1993
(C) 15 अगस्त 1947 (D) 1 अप्रैल 1963
- (18) मुदालियर कमीशन (1953) के सुझावों के कार्यान्वयन हेतु सरकार द्वारा निम्नलिखित में से किसकी स्थापना नहीं की गई है?
- (A) ग्रामीण उच्च शिक्षा समिति (B) विश्वविद्यालय अनुदान आयोग
(C) अखिल भारतीय शिक्षा परिषद् (D) अखिल भारतीय क्रीडा परिषद्
- (19) अंतरिक्ष परी सुनीता विलियम्स का नाम मूल भारत के किस राज्य के किस जिले के साथ जुड़ा है ?
- (A) हरियाणा – करनाल (B) गुजरात – वडोदरा
(C) गुजरात – मेहसाणा (D) हरियाणा – कुरुक्षेत्र
- (20) कबड्डी विश्वकप 2025 की मेजबानी किस देश ने की थी ?
- (A) भारत (B) इंग्लैंड
(C) दक्षिण कोरिया (D) मलेशिया
- (21) मुक्त एवं दूरवर्ती शिक्षा (ODL) का समावेश इनमें से किस प्रकार की शिक्षा में किया जा सकता है ?
- (A) औपचारिक (Formal) (B) अनौपचारिक (Informal)
(C) गैर-औपचारिक (Non-formal) (D) तीनों में से एक भी नहीं
- (22) 'मैं अपने छात्रों को कभी नहीं पढ़ाता। मैं केवल उन्हें सीखने के लिए अनुकूल परिस्थितियाँ प्रदान करने का प्रयास करता हूँ।' यह प्रसिद्ध उक्ति किसकी है ?
- (A) महर्षि अरविंद (B) अल्बर्ट आइंस्टीन
(C) पेस्टोलॉजी (D) एरिक फ्रोम

- (23) व्यक्ति को अपनी वैयक्तिकता का विकास समाज की आवश्यकताओं तथा आदर्शों को ध्यान में रखते हुए करना है। - यह शिक्षा का किस प्रकार का उद्देश्य है ?
- (A) वैयक्तिक उद्देश्य (B) सामाजिक उद्देश्य
(C) विशिष्ट उद्देश्य (D) सार्वभौमिक उद्देश्य
- (24) शिक्षा को त्रिध्रुवीय प्रक्रिया बताने वाले इस शिक्षाशास्त्री ने शिक्षक और शिक्षार्थी के अलावा सामाजिक वातावरण या पाठ्यक्रम को तीसरा महत्वपूर्ण ध्रुव माना है ?
- (A) जॉन डुई (B) जॉन एडम्स
(C) हर्बर्ट स्पेन्सर (D) बेन्जामिन एस. ब्लूम
- (25) आदर्शवाद को दूसरे किस नाम से जाना जाता है ?
- (A) विचारवाद (B) वास्तववाद
(C) प्रकृतिवाद (D) व्यवहारवाद
- (26) ज्हाँन ड्यूई, किलपेट्रिक और महात्मा गांधी का समावेश किस वाद में किया जा सकता है ?
- (A) अस्तित्ववाद (B) प्रकृतिवाद
(C) आदर्शवाद (D) व्यवहारवाद
- (27) सामाजिक और राष्ट्रीय एकीकरण की प्राप्ति किसके द्वारा होती है ?
- (A) संयुक्त कुटुंब (B) आहार की आवश्यकता
(C) लोकशाही (D) जनसंख्या वृद्धि
- (28) कौन-सी शिक्षा व्यक्ति को फुरसत के वक्त पर अधिक आनंदप्रद और उत्पादक बना सकती है ?
- (A) अवैधिक शिक्षा (B) निरंतर शिक्षा
(C) आजीवन शिक्षा (D) पत्र व्यवहार द्वारा शिक्षा
- (29) शिक्षा का सांस्कृतिक उद्देश्य किस बात पर जोर देता है ?
- (A) किसी व्यक्ति को ज्ञान से समृद्ध करना
(B) जीवन में आदर्शों और मूल्यों की स्थापना
(C) ज्ञान, कला, साहित्य, संगीत एक पीढ़ी से दूसरी पीढ़ी तक हस्तांतरित करना
(D) व्यक्ति को जीविका कमाने में सक्षम बनाना

- (30) मनुष्य में परिस्थितियों के अनुरूप ढलने और उन्हें अपनी आवश्यकताओं के अनुसार ढालने की क्षमता होती है। प्रयोजनवाद (उपयोगितावाद) का कौन-सा रूप इस क्षमता पर बल देता है ?
- (A) नामरूपवादी प्रयोजनवाद (B) प्रयोगवादी प्रयोजनवाद
(C) जीव विज्ञानवादी प्रयोजनवाद (D) मानवहितवादी प्रयोजनवाद
- (31) 100 के आईक्यू वाले व्यक्ति को किस श्रेणी में रखा जाता है ?
- (A) सामान्य बुद्धि (B) विशेष बुद्धि
(C) मंद बुद्धि (D) अतिविशिष्ट बुद्धि
- (32) छात्रों को स्कूल जाना भी पसंद नहीं है और घर पर रहना भी। इस समय छात्र किन संघर्षों का अनुभव करते हैं ?
- (A) अभिगमन-विगमन (B) अभिगमन-अभिगमन
(C) विगमन-विगमन (D) दोहरा अभिगमन-विगमन
- (33) वह कौन-सा मनोवैज्ञानिक था जिसने प्रेरणा को चक्रिय माना था ?
- (A) लिपिड (B) सी. टी. मॉर्गन
(C) लेविन (D) एमिलिकुआ
- (34) मानसिक रूप से मंद बच्चों को पहचान कैसे की जा सकती है ?
- (A) सिद्धि कसौटी द्वारा (B) वाचन कसौटी द्वारा
(C) सामान्य निरीक्षण द्वारा (D) बुद्धि कसौटी द्वारा
- (35) GATB का पूरा नाम क्या है ?
- (A) Great Attitude Test Box (B) Global Attitude Test Book
(C) Global Aptitude Test Book (D) General Aptitude Test Battery
- (36) रॉबर्ट गेने के अधिगम के 8 स्तर में सर्वोत्तम स्थान पर रखे गये अधिगम का नाम क्या है ?
- (A) उद्दीपन-अनुक्रिया अधिगम (B) शाब्दिक साहचर्य अधिगम
(C) समस्या समाधान अधिगम (D) बहु-विभेदन अधिगम
- (37) थॉर्नेडाइक का 'प्रयास एवं त्रुटि का सिद्धांत' अन्य किस नाम से जाना जाता है ?
- (A) उद्दीपन-अनुक्रिया सिद्धांत (B) क्रिया-प्रसूत अनुबंधन सिद्धांत
(C) संज्ञानात्मक अधिगम सिद्धांत (D) प्रेरणा का सिद्धांत

- (38) मेस्लो के अनुसार आवश्यकताओं के श्रेणी-विभाजन में सर्वप्रथम रखी गई दैहिक आवश्यकताओं की आपूर्ति हो जाने पर दूसरे क्रम पर कौन-सी आवश्यकता आती है ?
- (A) प्रेम तथा सम्बन्धता आवश्यकता (B) आदर आवश्यकता
(C) आत्म-वास्तविकीकरण आवश्यकता (D) सुरक्षा आवश्यकता
- (39) बुद्धिमापन की सफल शुरुआत करने वाले प्रथम मनोवैज्ञानिक कौन थे ?
- (A) गैरेट और मेन्टेस्ट (B) बिने और साइमन
(C) क्रो और क्रो (D) स्पीयरमेन और थस्टॉन
- (40) वह अस्थायी अवस्था, जिसमें सीखने का ग्राफ लंबा सपाट और क्षैतिज बन जाता है ?
- (A) अधिगम (learning) (B) परिपक्वता (maturity)
(C) पठार (Plateau) (D) समाप्ति (end)
- (41) विद्यार्थी को किसी क्षेत्र विशेष में अध्ययन, नौकरी या किसी विशेष कार्य के लिए मार्गदर्शन प्रदान करने हेतु शिक्षक कौन-सा टेस्ट लेगा ?
- (A) बुद्धि कसौटी (B) व्यक्तित्व मापन कसौटी
(C) अभिरुचि कसौटी (D) नैदानिक कसौटी
- (42) विद्यार्थी की सृजनात्मकता क्षमता को पूर्ण और प्रभावी बनाने में शिक्षक को सबसे ज्यादा महत्त्व किसे देना चाहिए ?
- (A) प्रक्रिया (B) विचार
(C) श्रेष्ठता (D) सृजन
- (43) अभ्यास क्रम के निर्माण में, शिक्षा पद्धति तय करने में छात्र की कौन-सी अवस्था का ध्यान रखना आवश्यक है ?
- (A) मानसिक (B) शारीरिक
(C) सांवेगिक (D) सर्वांगी
- (44) छात्रों के ध्यान केन्द्रित करने के लिए क्या आवश्यक है ?
- (A) शिक्षक की सज्जता (B) एकम को ध्यान में रखकर, योग्य पद्धति का चयन
(C) वयकक्षा (D) मानसिक कक्षा
- (45) आंतरिक उत्प्रेरण से प्राप्त प्रलोभन से भिन्न हो ऐसा कार्य के इरादे को क्या कहेंगे ?
- (A) अयोग्य वर्तन (B) प्रेरणा
(C) अभियोग्यता (D) व्याकुलता

- (46) वर्गखंड में कितने प्रकार की आंतरक्रिया होती है ?
- (A) पाँच (B) दो
(C) तीन (D) एक
- (47) ब्लूम द्वारा बनाई गई मूल्यांकन की प्रक्रिया अध्येता के कौन-से विकास का मापन है ?
- (A) शारीरिक (B) मानसिक
(C) सर्वांगी (D) सामाजिक
- (48) किसके उपयोग ने शिक्षा को समय, संग्रह, संख्या जैसे बंधनों में से मुक्त कर दिया है ?
- (A) इन्टरनेट (B) टेक्नोलॉजी
(C) वेब-साइट (D) ओपन यूनिवर्सिटी
- (49) पाठशाला की दैनिक समस्याओं का वैज्ञानिक अभ्यास करना उसे कौन-से प्रकार का संशोधन कहा जाता है ?
- (A) व्यवहारिक (B) क्रियात्मक
(C) शास्त्रीय (D) मुलाकात
- (50) प्रदत्त समूह का मध्यमबिंदु ज्ञात करने के लिए क्या निकाला जाता है ?
- (A) मध्यमान (B) बहुलांक
(C) मध्यांक (D) उपरोक्त सभी
- (51) इनमें से किस अभिक्रमित अनुदेशन को स्किनेरियन अनुदेशन के नाम से भी जाना जाता है ?
- (A) शाखीय अनुदेशन (B) रेखीय अनुदेशन
(C) मेथेटिक्स अनुदेशन (D) उपरोक्त तीनों
- (52) नेड फ्लैडर्स की अंतःक्रिया विश्लेषण वर्ग प्रणाली में (i) शिक्षक की बात (ii) शिष्य की बात (iii) शांति की गतिविधियाँ की संख्या का सही अनुक्रम कौन-सा है ?
- (A) (i) 7 (ii) 1 (iii) 2
(B) (i) 4 (ii) 4 (iii) 2
(C) (i) 6 (ii) 3 (iii) 1
(D) (i) 7 (ii) 2 (iii) 1

(53) शतांशीय मान ज्ञात करने का सूत्र क्या है ?

(A) $PR = 100 - \frac{(100R - 50)}{N}$

(B) $PR = 100 \frac{(100R - 50)}{N}$

(C) $PR = 100 - \frac{(50R - 100)}{N}$

(D) $PR = 1 - \frac{(100R - 50)}{N}$

(54) 6, 9, 10, 12, 16, 17, का मध्यांक क्या है ?

(A) 10

(B) 11

(C) 17

(D) 12

(55) छात्रों का ध्यान टॉपिक में बना रहे इसके लिए अध्यापक अपने हाव-भाव में परिवर्तन, स्वर में उतार-चढ़ाव एवं हाथों के संकेत का प्रयोग किस शिक्षण कौशल में करते हैं ?

(A) प्रस्तावना कौशल

(B) दृष्टांत या उदाहरण कौशल

(C) शिक्षण सहायक सामग्री प्रयोग कौशल

(D) उद्दीपन परिवर्तन कौशल

(56) ? के स्थान पर सही विकल्प चुनें।

3000, 1500, 500, 125, ?

(A) 100

(B) 50

(C) 25

(D) 20

(57) 'A' 'B' की बहन है। 'C', 'B' की माता है। 'D' 'C' का पिता है। तो 'D' का 'A' से क्या संबंध है ?

(A) मामा

(B) पिता

(C) मौसा

(D) नाना

(58) दिये गये विकल्पों में से वह शब्द चुनिए जो INDEPENDENCE शब्द के अक्षरों का प्रयोग करके नहीं बनाया जा सकता है ?

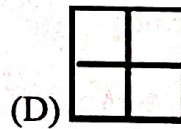
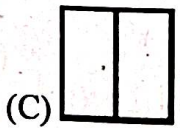



(A) NICE

(B) PINE

(C) PENDING

(D) INDEED

- (59) काव्या बिंदु A से दक्षिण के ओर चलना शुरू करती हैं। 30 मीटर सीधा चलने के बाद उसने बाईं ओर मोड़ लिया, फिर वह 40 मीटर सीधा चलकर बिंदु B पर पहुँची। तो बिंदु A और B के बीच सीधी दूरी क्या होगी ?
- (A) 50 मीटर (B) 35 मीटर
(C) 70 मीटर (D) 120 मीटर
- (60) यदि $B = 20$, $BAG = 10$ हैं, तो BOX का मान क्या होगा ?
- (A) 11 (B) 12 (C) 41 (D) 42
- (61) बेजोड़ को चुनिए।
- (A) DEGJ (B) MNPS (C) PQTU (D) TUWZ
- (62) पाँच मित्र पंक्ति में बैठे हैं। A, B के दाईं ओर है। मगर पहला नहीं बैठा। C, D के बाईं ओर हैं। यदि B, E के दाईं ओर हैं तो ठीक बीच में कौन बैठा है ?
- (A) A (B) B (C) D (D) E
- (63) निम्न प्रश्न में पता लगाएँ कि उत्तर आकृतियाँ चार विकल्पों से कौन-सी आकृति मैट्रिक्स को पूरा करती है ?



- (64) 34, 18, 10, 6, 4, (_____) ?
- (A) 0 (B) 1 (C) 2 (D) 3
- (65) DOG का कोड 4157 है, तो LION का कोड इसी भाषा में कौन-सा होगा ?
- (A) 1271514 (B) 1291514 (C) 1291312 (D) 1181514

- (66) 65 बच्चों की एक पंक्ति में A का क्रम बाईं ओर से 13 वें स्थान पर है और B का क्रम दाईं ओर से 39 वें स्थान पर है। तो इन दोनों के बीच कितने बच्चे होंगे ?
- (A) 9 (B) 13 (C) 15 (D) 11
- (67) (?) में कौन-सा अंक आयेगा ?
- (?)
- (15) (6) (3)
- (19)
- (A) 91 (B) 610
- (C) 691 (D) 587
- (68) थर्मोमीटर : तापमान :: _____ : भूकंप
- (A) स्केल (B) सिस्मोग्राफ
- (C) एनिमोमीटर (D) ऑडोमीटर
- (69) आपकी घड़ी की दोनों सुइयों के बीच 4 : 00 बजे कितने डिग्री का कोण होगा ?
- (A) 120° (B) 100°
- (C) 80° (D) 60°
- (70) अंग्रेजी शब्कोश में निम्नलिखित विकल्पों में से कौन-सा विकल्प प्रथम आयेगा ?
- (A) Overbid (B) Outstanding
- (C) Oval (D) Outstep
- (71) क्या वाक्यમાં अव्ययનો ઉપયોગ થતો નથી ?
- (A) તે પાસ થયો કેમ કે તેણે ખૂબ મહેનત કરેલી. (B) શાબાશ છે એ બહાદૂર જુવાનને !
- (C) એ પ્રાણઘાતક અકસ્માતથી તે મરી જાત. (D) એ ચોરની પેઠે ઘરમાં ઘૂસ્યો.
- (72) કયું વાક્ય કર્મણિ પ્રયોગમાં નથી ?
- (A) તને વિમાન દેખાય છે ? (B) મેં શીર્ષાસન કર્યું.
- (C) મને વાત સમજાય છે. (D) મારે આસને બેસવું છે.

(73) A સાથે Bનાં સાચાં જોડકાં દર્શાવતો વિકલ્પ કયો છે ?

A

B

(a) લખવાનું આપોને

(i) ભવિષ્યકૃદંત

(b) માગ્યા મેહ વરસે નહીં

(ii) સંબંધક ભૂ.કૃ.

(c) લખી લખીને થાક્યો

(iii) હેત્વર્થ

(d) વાંચવા આવજો

(iv) ભૂતકૃદંત

(A) (a) i, (d) ii, (b) iii, (c) iv

(B) (b) i, (c) ii, (d) iii, (a) iv

(C) (c) i, (b) ii, (d) iii, (a) iv

(D) (a) i, (c) ii, (d) iii, (b) iv

(74) કયા જોડકામાંના શબ્દો એક પ્રકારનો જ સમાસ દર્શાવે છે ?

(A) તપોધન, પાઠચેતર

(B) ધનશ્યામ, કાપુરુષ

(C) કલ્પલતા, શ્રીયુત

(D) શેષશાયી, સ્વચ્છંદ

(75) એ શબ્દ શોધો કે જેનો અર્થ અન્ય કરતાં ભિન્ન છે.

(A) પુંડરિક

(B) પર્યક

(C) રાજીવ

(D) શતદલ

(76) સાચી જોડણી પસંદ કરો.

(A) હિમસૂતા

(B) હીમસુતા

(C) હીમસૂતા

(D) હિમસુતા

(77) એ, થી, થકી, વડે વગેરે પ્રત્યયો કઈ વિભક્તિમાં આવે છે ?

(A) સંપ્રદાન

(B) અપાદાન

(C) સંબંધ

(D) કરણ

(78) પોતાની વાતને કે વિષયને સ્પષ્ટ કરવાનો પ્રયત્ન કરતા ગદ્યને કયા પ્રકારનું ગદ્ય કહેવામાં આવે છે ?

(A) વાદાત્મક

(B) વિવરણાત્મક

(C) વર્ણનાત્મક

(D) ભાવાત્મક

(79) તમતમારે, જુદાજુદા, દૂરદૂરથી વગેરે કયા પ્રકારના શબ્દો છે ?

(A) નામયોગી શબ્દો

(B) સંયુક્ત શબ્દો

(C) સામાસિક શબ્દો

(D) દ્વિરુક્તિવાળા શબ્દો

(80) નીચેનામાંથી પરિભાષવાચક વિશેષણ જણાવો.

(A) આટલું

(B) આવું

(C) કડવું

(D) પહેલું

- (81) નીચેનામાંથી કયા વિકલ્પમાં તમામ શબ્દોની જોડણી વ્યાકરણની દૃષ્ટિએ સંપૂર્ણ સાચી છે ?
- (A) શારીરિક, આશીર્વાદ, જિજ્ઞવિષા, સુશ્રુષા
 (B) શારીરિક, આશીર્વાદ, જિજ્ઞવિષા, શુશ્રુષા
 (C) શારિરીક, આશિર્વાદ, જિજ્ઞવિષા, શુશ્રુષા
 (D) શારીરીક, આશિર્વાદ, જિજ્ઞવીષા, શુશ્રુષા
- (82) નીચેનામાંથી કયો શબ્દ 'અન્ધ'નો પર્યાયવાચી શબ્દ નથી ?
- (A) હાય (B) વાજી
 (C) તોખાર (D) કુંજર
- (83) વાક્યશુદ્ધિના નિયમ અનુસાર નીચેનામાંથી વ્યાકરણની દૃષ્ટિએ શુદ્ધ વાક્ય પસંદ કરો.
- (A) મેં આજે એક ગાય અને એક બળદને આવતી જોઈ.
 (B) મેં આજે એક ગાય અને એક બળદ આવતાં જોયાં.
 (C) મેં આજે એક ગાય અને એક બળદ આવતા જોયો.
 (D) મેં આજે એક ગાય અને બળદને આવતી જોઈ.
- (84) નીચેના વાક્યમાં વ્યાકરણીય રીતે કયો શબ્દપ્રયોગ ખોટો છે ? "તેણે મને સહૃદયતાપૂર્વક આવકાર આપ્યો."
- (A) તેણે (B) સહૃદયતાપૂર્વક
 (C) આવકાર (D) આપ્યો
- (85) લેખનકાર્ય કરતી વખતે વાક્યના અંતે કે વચ્ચે કોઈ વિગત લખવાની બાકી રહી ગઈ હોય, ત્યારે તેને ઉમેરવા માટે કયા ચિહ્નનો ઉપયોગ થાય છે ?
- (A) લોપચિહ્ન (ˆ)
 (B) કાકપદ / હંસપદ (^)
 (C) લઘુરેખા (-)
 (D) ફુદડી (*)
- (86) Pair the words with their antonyms.
- | Words | Antonyms |
|-------------|--------------|
| (a) lazy | (i) diligent |
| (b) active | (ii) blunt |
| (c) sharp | (iii) inert |
| (d) fertile | (iv) barren |
- (A) (c) i, (d) ii, (a) iii, (b) iv
 (B) (a) ii, (c) iii, (b) i, (d) iv
 (C) (c) ii, (d) i, (b) iii, (a) iv
 (D) (a) i, (d) iii, (c) ii, (b) iv

- (87) Which word has no suffix.
- (A) Health (B) Library
(C) Embrace (D) Marriage
- (88) Find out the odd pair.
- (A) proud - pride (B) bond - bind
(C) grieve - grief (D) lose - loss
- (89) Arrange these sentences in proper order to describe an accident-scene.
- (i) Passengers were told to be ready to quit the ship.
(ii) Everyone knew there was fire on board.
(iii) Smoke oozed up between the planks.
(iv) Flames broke out here and there.
(v) Most people bore the shock bravely.
- (A) iii, ii, v, iv, i (B) i, ii, iv, iii, v
(C) iv, iii, ii, v, i (D) iii, iv, ii, i, v
- (90) Select the sentence with almost similar meaning to the sentence "At the moment the duck looked exhausted."
- (A) The duck looked dreadful
(B) The duck was looking for a place to hide
(C) The duck looked very tired.
(D) The duck seemed unhappy.
- (91) Put proper preposition in the blank. He was looking his lost keys.
- (A) at (B) for
(C) after (D) into
- (92) he finds a job, his family will starve. Fill in the blank with proper word.
- (A) It (B) Unless
(C) As (D) However
- (93) The harder you work, the result you will get.
- (A) good (B) best
(C) better (D) lower

- (94) Select the similar word for Inventory.
- (A) Summary
 - (B) Schedule
 - (C) Index
 - (D) Questionnaire
- (95) All the crows are black. We find a white crow, put proper adverb to complete the sentence.
- (A) frequently
 - (B) usually
 - (C) rarely
 - (D) always
- (96) Which expression best conveys the idea ?
- (A) During the curfew, the streets wearing desolate look.
 - (B) During the curfew, the streets wore a desolate look.
 - (C) During the curfew, the streets have had worn desolate looks
 - (D) During the curfew, the streets has been wearing desolation looks.
- (97) What is the correct noun form of the verb 'compel' ?
- (A) Compelation
 - (B) Compulsion
 - (C) Compulsory
 - (D) Compellent
- (98) Fill in the blank with the correct preposition : "The committee is totally opposed the new proposal."
- (A) for
 - (B) against
 - (C) to
 - (D) with
- (99) Fill in the blanks with appropriate articles : "He is heir to the throne and honest man."
- (A) a, a
 - (B) an, a
 - (C) an, an
 - (D) the, a
- (100) Identify the correct verb according to subject-verb Agreement : "Neither the principal nor the teachers present at the meeting yesterday."
- (A) was
 - (B) were
 - (C) are
 - (D) is

- (101) हिसाबी पद्धति में बाजार कीमत की अवगणना करके कौन-सी लागत आधारित लेखा किया जाता है ?
- (A) परंपरित (B) वास्तविक
(C) भूतकाल (D) भविष्य
- (102) देनदार-लेनदार का संबंध कौन-सा व्यवहार दर्शाता है ?
- (A) रु. 5000 का माल खरीदा (B) रु. 5000 का माल चेक से खरीदा
(C) रु. 5000 का माल आग से जल गया (D) रु. 5000 का माल मैत्री मे पास से खरीदा
- (103) निम्न हिसाबी समीकरण में से कौन सा सही है ?
- (A) $A = C + L$ (B) $C = A + L$
(C) $A = C \times L$ (D) $L = C + A$
- (104) जिस आर्थिक व्यवहार में रोकड और बैंक दोनों खाते प्रभावित होते हैं, ऐसे व्यवहार को कौन-सा व्यवहार कहते हैं ?
- (A) जमा-खर्ची व्यवहार (B) जमा व्यवहार
(C) उधार व्यवहार (D) बिन आर्थिक व्यवहार
- (105) किसको बहियों का राजा गिना जाता है ?
- (A) रोजनामचा (B) खाताबही
(C) रोकडबही (D) सहायकबही
- (106) सकल तलपट में कितने समय के खाते होते हैं ?
- (A) 1 वर्ष (B) अमर्यादित समय
(C) छः मास (D) तीन मास
- (107) प्रिथिश एन्ड कंपनी ने रु. 55000 की कीमत का यंत्र खरीदा। जिसकी स्थापना खर्च रु. 5000 हुआ। प्रतिवर्ष 10% की दर से घटते शेष पद्धति से तीसरे वर्ष की घिसाई कितनी होगी ?
- (A) 5500 (B) 5400
(C) 6000 (D) 4860

- (108) ता. 31-3-2025 के दिन स्टॉक रु. 1,00,000 का है, जिसमें 30% माल की बाजार कीमत 20% अधिक है। 50% माल की बाजार कीमत 10% कम है। जबकि शेष माल में रु. 1000 का मरम्मत खर्च करना पड़ेगा तो अंतिम स्टॉक कितना होगा?
- (A) 9,00,000 (B) 94,000
(C) 95,000 (D) 92,000
- (109) धंधे के हिसाब निश्चित समय या मुद्दत के लिए तैयार किये जाते हैं। इस विधान में कौन-सी हिसाबी धारणा या सिद्धांत या प्रणाली का अनुसरण किया गया है ?
- (A) हिसाबी समय का सिद्धांत (B) हिसाबी इकाई का सिद्धांत
(C) चालू पेढी का सिद्धांत (D) लागत का सिद्धांत
- (110) ICAI द्वारा ASB की स्थापना किस वर्ष में की गयी थी ?
- (A) 1978 (B) 1976
(C) 1977 (D) 1975
- (111) वसूली के लिए जानेवाला गुमास्ता या मुनीम अपने पास डायरी या चौपड़े को क्या कहते हैं ?
- (A) उगाही बही (B) जणस बही
(C) जांगड बही (D) कबाला बही
- (112) एकहरा लेखा पद्धति की मर्यादा कौन-सी है ?
- (A) सकल तलपट तैयार कर सकते है। (B) धंधे के निर्णय लेने में कठिनाई होती है।
(C) विश्वसनीयता होती है। (D) लाभ या हानि ज्ञात कर सकते हैं।
- (113) द्विलेखा नामा पद्धति के जन्मदाता के रूप में किसे जाना जाता है ?
- (A) मार्शल (B) रोबर्ट
(C) ल्युका वेसोयोली (D) होल्डिंग
- (114) हिसाब तैयार करने का चौथा सोपान कौन-सा है ?
- (A) व्यवहार की पहचान (B) खाताबही
(C) वाउचर (D) वार्षिक हिसाब

- (115) रु. 700 ऑफिस खर्च के लिए बैंक में से निकाले। इस संदर्भ में कौन-सा खाता उधार होगा?
- (A) रोकड़ खाता (B) बैंक खाता
(C) ऑफिस खर्च खाता (D) खरीद खाता
- (116) चेक में कितने पक्षकार होते हैं ?
- (A) 02 (B) 03 (C) 04 (D) 05
- (117) समान हप्ता पद्धति में घिसाई की दर ज्ञात करने का सूत्र क्या है ?
- (A) $R = \frac{C}{D} \times 100$ (B) $R = \frac{D}{C} \times 100$
(C) $R = \frac{B}{D} \times 100$ (D) $R = \frac{B}{C} \times 100$
- (118) माँगे जाने पर तुरंत भुगतानपात्र हुंडी को कौन-सी हुंडी कहते हैं ?
- (A) दर्शनी हुंडी (B) लेनी हुंडी
(C) देनी हुंडी (D) वचन चिट्ठी
- (119) ता. 31-3-2025 के दिन स्टॉक रु. 2,00,000 का है जिसमें 30% माल की बाजार कीमत 20% अधिक है। 50% माल की बाजार कीमत 10% कम है। जबकि शेष माल में रु. 2000 मरम्मत खर्च करना पड़ेगा। स्टॉक का मूल्य कितना होगा?
- (A) रु. 2,00,000 (B) रु. 1,90,000
(C) रु. 2,12,000 (D) रु. 1,88,000
- (120) मूलभूत हिसाबी समीकरण अथवा पक्की तलपट का समीकरण अर्थात् की सम्पत्तियाँ = दायित्व + पूंजी. यह सिद्धांत पर आधारित है।
- (A) महत्वता (B) लागत
(C) दोहरी असर (D) रुकसूत्रता
- (121) हस्ताक्षर खाताबही कौन तैयार करता है ?
- (A) शराफ (B) ग्राहक
(C) उत्पादक (D) कर्मचारी

(122) भारत औसत लाभ की रकम कितनी होगी?

वर्ष	लाभ (रु)
2012-13	90,000
2013-14	1,00,000
2014-15	1,10,000
2015-16	1,30,000
2016-17	1,50,000

(A) रु. 1,10,000

(B) रु. 1,16,000

(C) रु. 1,26,000

(D) रु. 2,20,000

(123) निम्नलिखित में से कौन-सी शेष अनामत या एकत्रित लाभ नहीं हैं ?

(A) पूँजी अनामत

(B) कारीगर लाभांश फंड

(C) आकस्मिक अनामत

(D) विनियोग वृद्धि-कमी फंड

(124) A, B, और C एक पेढ़ी के साझेदार हैं। वे लाभ-हानि 4:3:2 के प्रमाण में बाँटते हैं। B निवृत्त होता है तब A और C का नया प्रमाण क्या होगा ?

(A) 4 : 2

(B) 3 : 2

(C) 2 : 4

(D) 4 : 3

(125) विसर्जन के समय पेढ़ी की कुल सम्पत्तियाँ रु. 40,00,000 है। जिसमें 40% चालू सम्पत्तियाँ जिसमें रोकड़ रु 20,000 का समावेश होता है। स्थिर सम्पत्तियों के 120% रकम मिली, जबकि चालू सम्पत्तियों के 80% रकम मिली। विसर्जन के समय कितनी रकम मिलेगी?

(A) रु. 2,40,000

(B) रु. 2,88,000

(C) रु. 1,12,000

(D) रु. 4,00,000

(126) लाभ-हानि के समान माप के पत्रक में आधार के रूप में किसे लिया जाता है ?

(A) संपत्ति

(B) दायित्व

(C) कुल योग

(D) शुद्ध बिक्री

(127) सार्वजनिक डिपोजिट वित्तीय पत्रक में कहाँ दर्शायी जाती है ?

(A) दीर्घकालीन उधार ली गई रकम

(B) दीर्घकालीन प्रावधान

(C) दीर्घकालीन लोन और धिराण

(D) अल्पकालीन प्रावधान

- (128) रुम लिमिटेड की जानकारी पर से चालू गुणोत्तर कितना होगा?
- | | |
|----------------|--------------|
| चालू सम्पत्ति | रु. 1,50,000 |
| कार्यशील पूँजी | रु. 60,000 |
- (A) 2.5 : 1 (B) 1.67 : 1
(C) 1 : 1 (D) 1.3 : 1
- (129) स्वनिर्मित सम्पत्तियाँ रोकड़ प्रवाह में कहाँ दर्शायी जाती है ?
- (A) विनियोग प्रवृत्ति (B) वित्तीय प्रवृत्ति
(C) परिचालन प्रवृत्ति (D) लाभ-हानि का पत्रक
- (130) रोकड़ प्रवाह के कितने प्रकार है ?
- (A) 03 (B) 04
(C) 05 (D) 02
- (131) RTGS सदस्य: _____ से अधिक रकम का स्थानांतरण किया जाता है।
- (A) रु. 1 लाख (B) रु. 50,000
(C) रु. 1,50,000 (D) रु. 2,00,000
- (132) भारतीय रेलवे सार्वजनिक क्षेत्र के संचालन का कौन-सा स्वरूप है ?
- (A) मिश्र संचालन (B) विभागीय संचालन
(C) सरकारी कंपनी (D) सार्वजनिक निगम
- (133) SEZ (Special Economic Zone) कानून कब अमल में आया था ?
- (A) 10 फरवरी 2006 (B) 10 जनवरी 2005
(C) 1 जुलाई 2007 (D) 1 जुलाई 2004
- (134) विश्व व्यापार संगठन को कितने देशों ने समर्थन देकर हस्ताक्षर किये हैं ?
- (A) 104 (B) 100
(C) 102 (D) 105

(135) प्रशिक्षण की आवश्यकता क्यों होती है ?

(A) कर्मचारी में कमी

(B) नियंत्रण करने के लिए

(C) वेतन में कमी

(D) कार्य संतोष में वृद्धि

(136) चयन प्रक्रिया का द्वितीय स्तर क्या है ?

(A) आवेदनपत्र स्वीकार करना और जाँच करना

(B) स्वागत और प्राथमिक मुलाकात

(C) प्रत्यक्ष मुलाकात

(D) आवश्यक परीक्षायें लेना

(137) उम्मीदवार की कार्य के प्रति रुचि जानने के लिए कौन-सी परीक्षा ली जाती है ?

(A) बुद्धि परीक्षा

(B) व्यावसायिक परीक्षा

(C) अभिरुचि परीक्षा

(D) मनोवैज्ञानिक परीक्षा

(138) अप्राप्त भाड़ा खाते का कौन-सा प्रकार है ?

(A) उपज-खर्च खाता

(B) माल-सम्पत्ति खाता

(C) उधार खाता

(D) व्यक्तिगत खाता

(139) महेसूली आवक रोकड़ में मिले, तब ...

(A) सम्पत्ति में वृद्धि-दायित्व में वृद्धि

(B) सम्पत्ति में वृद्धि-दायित्व में कमी

(C) सम्पत्ति में वृद्धि - पूँजी में वृद्धि

(D) पूँजी में वृद्धि - दायित्व में कमी

(140) पूँजी की तुलना की रीत में पूँजी ज्ञान करने के लिए क्या बनाया जाता है ?

(A) स्थितिदर्शक पत्रक

(B) लाभ-हानि का पत्रक

(C) धंधे के माल का पत्रक

(D) आर्थिक चिह्न

(141) निम्न में से किसका सहायक बहियों में समावेश नहीं होता ?

(A) लघु रोकड़ बही

(B) बिक्री बही

(C) उधार खाता

(D) खाता बही

(142) हवाला बही किस नाम से जानी जाती है ?

(A) सरवैया

(B) उतारो

(C) अचल मेल

(D) रोजमेल

(143) _____ के सिद्धांत के आधार पर स्थायी संपत्तियों पर घिसाई की गणना की जाती है ?

- (A) महत्त्वता (B) चालू पेढी
(C) द्रव्य का मापन (D) हिसाबी इकाई

(144) घिसाई की कौन-सी पद्धति में सम्पत्ति की कीमत कभी भी शून्य नहीं होती है ?

- (A) घटते शेष की पद्धति (B) वर्षासन पद्धति
(C) प्रति इकाई क्षय पद्धति (D) समान हफ्ते की पद्धति

(145) निम्न भूलों में से कौन-सी भूल सकल तलपट पर असर न करनेवाली भूल है ?

- (A) खतौसी से सम्बन्धित भूलें (B) मूल बही लिखते समय हुई भूल
(C) खातों के शेष सम्बन्धी भूलें (D) सहायक बहियों के योग की भूलें

(146) सामान्य रूप से प्रवाही गुणोत्तर का निम्न में से कौन-सा प्रमाण इच्छनीय गिना जाता है ?

- (A) 2 : 1 (B) 1 : 2
(C) 1 : 3 (D) 1 : 1

(147) कौन-सा डिबेन्चर कागजी नोट जैसा है ?

- (A) वाहक डिबेन्चर (B) रजिस्टर्ड डिबेन्चर
(C) साधारण डिबेन्चर (D) रिडीमेबल डिबेन्चर

(148) निम्न जानकारी के आधार पर दायित्व-इक्विटी गुणोत्तर की गणना कीजिए।

कुल सम्पत्तियाँ	रु. 25,00,000
दीर्घकालीन का लोन	रु. 6,00,000
दीर्घकालीन के प्रावधान	रु. 4,00,000
चालू दायित्व	रु. 5,00,000

- (A) 1 : 0.67 (B) 1 : 2
(C) 1 : 1 (D) 2 : 1

- (149) A और B, 3 : 2 के प्रमाण में लाभ-हानि बाँटनेवाले साझेदार है। उन्होंने C को लाभ का $\frac{1}{4}$ भाग देने की शर्त से प्रवेश दिया तो लाभ-हानि के नए प्रमाण की गणना कीजिए।
- (A) 9 : 6 : 5 (B) 9 : 5 : 6
(C) 6 : 5 : 9 (D) 6 : 9 : 5
- (150) इन्फ्रास्ट्रक्चर प्रोजेक्ट में काम करनेवाली कंपनी अधिक-से-अधिक कितने वर्ष तक के लिए डिबेन्चर निर्गमित कर सकेगी?
- (A) 10 वर्ष तक (B) 20 वर्ष तक
(C) 330 वर्ष तक (D) 15 वर्ष तक
- (151) शेयर जप्त हों तब जप्त हुए शेयर पर मँगायी गयी कुल रकम _____ की जाती है।
- (A) शेयर जप्ती खाता उधार (B) शेयर जप्ती खाता जमा
(C) शेयर पूँजी खाता उधार (D) शेयर पूँजी खाता जमा
- (152) जब लाभ-हानि का केवल पुराना प्रमाण ही दिया हो तब बाकी के साझेदारों का लाभ का प्रमाण = _____
- (A) 1 : 1 (B) पुराना प्रमाण
(C) पूँजी का प्रमाण (D) ज्ञात नहीं कर सकते
- (153) श्रीया प्रति मास के अंत में रु. 500 का आहरण वार्षिक 10% की दर से आहरण पर व्याज ज्ञात कीजिए।
- (A) रु. 325 (B) रु. 275
(C) रु. 330 (D) रु. 315
- (154) दिव्यांग और शिल्पा की साझेदारी पेढी की ता. 31-3-17 के रोज सलक तलपट में मकान (ता. 1-10-14 से पाँच वर्ष के लिए) 14000 दर्शाया है, तो अजलिखित मकान में से कितना बार होगा?
- (A) 2800 (B) 2500
(C) 4000 (D) 4500
- (155) पूँजीकृत लाभ = _____
- (A) $\frac{\text{औसत लाभ}}{\text{अपेक्षित मुआवजा का दर}} \times 100$ (B) $\frac{\text{अधिक लाभ}}{\text{अपेक्षित मुआवजा का दर}} \times 100$
(C) $\frac{\text{अपेक्षित लाभ}}{\text{अपेक्षित मुआवजा का दर}} \times 100$ (D) $\frac{\text{विनियोजित पूँजी}}{\text{अपेक्षित मुआवजा का दर}} \times 100$

(156) प्रोविडन्ड फंड साझेदार की निवृत्ति के समय कौन-से रूप में लिखा जाता है ?

- (A) नयी पक्की तलपट में जिम्मेदारी के रूप में
(B) सभी साझेदारों के खाते पुराने लाभ-हानि के प्रमाण में जमा
(C) सभी साझेदारों के खाते पुराने लाभ-हानि के प्रमाण में उधार
(D) नयी पक्की तलपट में लेना के रूप में

(157) संपादन खाते का दूसरा नाम कौन-सा है ?

- (A) लाभ-हानि खाता
(B) लाभ-हानि समायोजन खाता
(C) मालमिलकत निकाल खाता
(D) पुनः मूल्यांकन खाता

(158) मंगायी गयी पूँजी की रकम में से जितनी रकम शेयरधारकों के पास से कंपनी को मिले उस रकम को कौन-सी पूँजी कहते हैं?

- (A) वसूल आई पूँजी
(B) अनामत पूँजी
(C) आवेदित पूँजी
(D) प्रकाशित पूँजी

(159) कंपनी कानून, 2013 के अनुसार डिबेन्चर पर प्रीमियम की रकम कौन से खाते में लाया जाता है ?

- (A) डिबेन्चर धारा
(B) डिबेन्चर वापसी अनामत
(C) प्रतिभूति प्रीमियम अनामत
(D) डिबेन्चर वापसी विनियोग

(160) प्रवाही गुणोत्तर =

- (A) $\frac{\text{प्रवाही सम्पत्तियाँ}}{\text{चालू दायित्व}}$
(B) $\frac{\text{चालू दायित्व}}{\text{प्रवाही सम्पत्तियाँ}}$
(C) प्रवाही सम्पत्तियाँ × चालू दायित्व
(D) प्रवाही सम्पत्तियाँ - चालू दायित्व

(161) प्रयत्नों, परिणामों तथा साधनों और उद्देश्यों के मध्य सन्तुलन स्थापित करने का कार्य अर्थात् क्या ?

- (A) आयोजन
(B) प्रबंध
(C) संकलन
(D) नियंत्रण

(162) नवपारंपरिक विचारधारा के प्रणेता कौन थे ?

- (A) फ्रेडरिक टेलर
(B) स्लेटन मेयो
(C) हेनरी फेयोल्
(D) हर्जबर्ग

- (163) माल वितरण के मार्ग में प्रथम मध्यस्थी कौन है ?
- (A) थोकबंध व्यापारी (B) उत्पादक
(C) फुटकर व्यापारी (D) ग्राहक
- (164) सरकार दीर्घकालीन योजनाओं को सफल बनाने के लिए किस तरह पूँजी प्राप्त करती है ?
- (A) सामान्य इक्विटी अंश द्वारा (B) ऋण-पत्र द्वारा
(C) बॉन्ड द्वारा (D) सार्वजनिक बचत द्वारा
- (165) भारत सरकार ने किस वर्ष से वैश्वीकरण का स्वीकार किया ?
- (A) 1990 (B) 1991
(C) 1992 (D) 1993
- (166) किस परीक्षा द्वारा उम्मीदवार की चपलता, स्मरणशक्ति, विचारशक्ति, निर्णयशक्ति आदि की जानकारी प्राप्त की जा सकती है ?
- (A) बुद्धि परीक्षा (B) अभिरुचि परीक्षा
(C) व्यावसायिक परीक्षा (D) मनोवैज्ञानिक परीक्षा
- (167) सूचना के सुपर हाई-वे के रूप में किसे जाना जाता है ?
- (A) ई-कॉमर्स (B) इन्टरनेट सेवा
(C) बैंकिंग सेवा (D) आउटसोर्सिंग
- (168) नेतृत्व के अमल के लिए किसका अस्तित्व होना आवश्यक है ?
- (A) अधीनस्थों का (B) निरीक्षकों का
(C) नियोजकों का (D) संचालकों का
- (169) जब 2 से 14 दिन के लिए द्रव्य उधार लिया जाता है या दिया जाता है, तो उसे क्या कहते हैं ?
- (A) कॉल मनी (B) इंटर बैंक मनी
(C) नोटिस मनी (D) मार्केट मनी
- (170) अन्तर्राष्ट्रीय स्तर पर प्रति वर्ष किस दिन को ग्राहक अधिकार दिवस के रूप में मनाया जाता है ?
- (A) 2 मार्च (B) 10 मार्च
(C) 12 मार्च (D) 15 मार्च

- (171) व्यापारी किस सिद्धांतानुसार दावा-शिकायत का समाधान नहीं करते हैं ?
- (A) ग्राहक सावधान (B) एकाधिकार शाही
(C) ग्राहक हमेशा सही होता है (D) योग्यता व यथार्थता जाँच कर समाधान
- (172) कौन-सा सेक्रेटरी जो संचालन की तरफ से पत्र-व्यवहार, शेर वितरण, शेर जप्ती तथा शेर फेरबदल करता है?
- (A) निजी सेक्रेटरी (B) प्रशासनिक सेक्रेटरी
(C) विभागीय सेक्रेटरी (D) सामान्य सेक्रेटरी
- (173) कंपनी को प्रवर्तक का क्या कहा जाता है ?
- (A) संचालक पुत्र (B) मानस पुत्र
(C) मानव पुत्र (D) कानूनी पुत्र
- (174) सभा में हुए कामकाज और निर्णयों संबंधी मुद्दासर स्वरूप की नोट (टिप्पणी) को क्या कहते हैं ?
- (A) कोरम (B) परिपत्र
(C) नोटिस (D) मिनिट्स
- (175) किस संयोग में अदालत द्वारा अभिभावक या ट्रस्टी की नियुक्ति की जाती है ?
- (A) अंशधारी दिवालिया घोषित हो।
(B) अंशधारी अस्थिर दिमाग का घोषित हो।
(C) अंशधारी ने वसीयतनामा न किया हो और उत्तराधिकारी न हो।
(D) अंशधारी की मृत्यु हो जाए।
- (176) ड्रेनेज सुविधा और स्वच्छता की सेवा किस प्रकार की सेवा कही जाएगी ?
- (A) निजी (B) सार्वजनिक
(C) सरकारी (D) अर्धसरकारी
- (177) नियुक्ति पत्र का प्रारंभ किन शब्दों से किया जाता है ?
- (A) स्मृति पत्र (B) स्वीकृत
(C) अभिनंदन (D) शुभेच्छा

- (178) इ.सी.एस (ECS) का पूरा नाम क्या है ?
- (A) इलेक्ट्रॉनिक क्लियरिंग सिस्टम (B) इलेक्ट्रॉनिक क्लेरिफाइंग सिस्टम
(C) इलेक्ट्रॉनिक क्लियरिंग सर्विसेस (D) इलेक्ट्रॉनिक कैश सर्विसेस
- (179) आंतर विभागीय पत्रव्यवहार में कौन-सा पत्र विधिवत या अविधिवत रूप से लिखा जाता है ?
- (A) अपकर्ष का पत्र (B) परिपत्र
(C) पदोन्नति का पत्र (D) मेमो
- (180) बैंक के साथ के किसी भी प्रकार के पत्रव्यवहार किस प्रकार की शैली में करना होता है ?
- (A) जटिल शैली में (B) सरल शैली में
(C) अर्वाचीन शैली में (D) आधुनिक शैली में
- (181) शिक्षण के प्रश्नोत्तरी पद्धति के जनक कौन हैं ?
- (A) एरिस्टोटल (B) सोक्रेटीस
(C) गांधीजी (D) प्लेटो
- (182) पेडागोजी में मूल्यांकन का उद्देश्य क्या है ?
- (A) छात्रों की प्रगति का मूल्यांकन करना (B) छात्रों को श्रेणी देना
(C) शिक्षकों की प्रभावशीलता का मूल्यांकन करना (D) छात्रों के प्रति पूर्वग्रह करना
- (183) कॉमर्स विषय में कौन-सा कौशल सबसे अधिक महत्वपूर्ण है ?
- (A) संचार कौशल (B) समस्या समाधान कौशल
(C) विश्लेषणात्मक कौशल (D) समय प्रबंधन कौशल
- (184) माइक्रोटीचिंग के चरण कौन-से हैं ?
- (A) प्रतिक्रिया, अभ्यास, सिद्धांत (B) योजना, अभ्यास, मूल्यांकन
(C) अभ्यास, प्रतिक्रिया, मूल्यांकन (D) योजना, अभ्यास, प्रतिक्रिया
- (185) कक्षा प्रबंधन का मुख्य उद्देश्य क्या है ?
- (A) सीखने का वातावरण बनाना (B) छात्रों को नियंत्रित करना
(C) पाठ्यक्रम को कम करना (D) छात्रों को दंडित करना

- (186) शिक्षण सफल होता है, जब ...
- (A) शिक्षक पाठ को जल्दी पूरा करता है (B) छात्र चुप रहते हैं
(C) छात्र विषय को समझते हैं (D) शिक्षक बड़े शब्दों का उपयोग करता है
- (187) 'व्यक्तित्व' का घटक कौन-सा है ?
- (A) व्यवहार (B) भावनाएँ
(C) विचार (D) उपरोक्त सभी
- (188) कक्षा में सीखने में कठिनाई की पहचान करने का सबसे अच्छा तरीका क्या है ?
- (A) रचनात्मक मूल्यांकन (B) गुणात्मक मूल्यांकन
(C) निदानात्मक मूल्यांकन (D) सारांश मूल्यांकन
- (189) कौन-सी पद्धति शिक्षक केन्द्रित है ?
- (A) चर्चा पद्धति (B) प्रश्नोत्तरी पद्धति
(C) अवलोकन पद्धति (D) वर्णन पद्धति
- (190) शिक्षण नीति 2020 की शिक्षण रचना कैसी है ?
- (A) 10 + 2 (B) 6 + 4 + 2
(C) 5 + 3 + 3 + 4 (D) 8 + 2 + 2
- (191) नई शिक्षा नीति 2020 को कब मंजूरी दी गई ?
- (A) 15 अगस्त 2020 (B) 29 जुलाई 2020
(C) 26 जनवरी 2020 (D) 1 अप्रैल 2020
- (192) CLA का पूरा नाम लिखिए।
- (A) Compulsory Assisted Learning (B) Computer Assisted Learning
(C) Common Assisted Learning (D) Computer Aided Learning
- (193) वार्षिक आयोजन का उद्देश्य क्या है ?
- (A) शिक्षकों को प्रशिक्षित करना (B) छात्रों को शिक्षित करना
(C) परीक्षा के परिणाम को बेहतर बनाना (D) शैक्षणिक प्रक्रिया को व्यवस्थित करना

- (194) कॉमर्स विषय में व्यवहारवाद के अनुसार शिक्षक की भूमिका क्या होनी चाहिए ?
- (A) ज्ञान देनेवाला (B) मार्गदर्शक और सहायक
(C) नियंत्रक और निर्देशक (D) निर्देशक
- (195) ब्लूम का वर्गीकरण किससे संबंधित है ?
- (A) अनुशासन (B) शिक्षा अनुदान अंदाज
(C) अधिगम उद्देश्यों (D) शिक्षा पद्धति के अविष्कार
- (196) आकलन का उद्देश्य क्या है ?
- (A) प्रगति जानना (B) तुलना करना
(C) बीते कल को याद करवाना (D) माँ-बाप के अधिगम को जानना
- (197) 'स्केफोल्डिंग' की अवधारणा किससे संबंधित है ?
- (A) पियाजे (B) लेव व्योगोत्सकी
(C) फ्रॉइड (D) थॉर्नडोइक
- (198) अंतःप्रेरणा का उदाहरण निम्न में से कौन-सा है ?
- (A) पुरस्कार के लिए पढ़ना (B) दंड से बचने के लिए पढ़ना
(C) रुचि के कारण पढ़ना (D) अंक के लिए पढ़ना
- (199) मल्टीमीडिया का उपयोग भाषा शिक्षण में क्यों किया जाता है ?
- (A) वक्त से पहले बच्चे को तैयार करने के लिए (B) मनोरंजन के लिए
(C) सिर्फ आकलन करने के लिए (D) रोचक और प्रभावी बनाने के लिए
- (200) भावनात्मक बुद्धिमत्ता (EQ) का सिद्धांत _____ ने दिया।
- (A) पियाजे (B) हावर्ड गार्डनर
(C) स्किनर (D) डेनियल गोलमेन

